
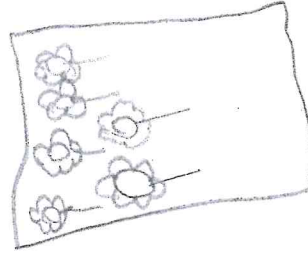



Mathurin prépare la fête des mères et ramasse des fleurs.
Il a 3 réalisés 3 bouquets de 6 fleurs.
Combien de fleurs va-t-il offrir au total à sa maman ?

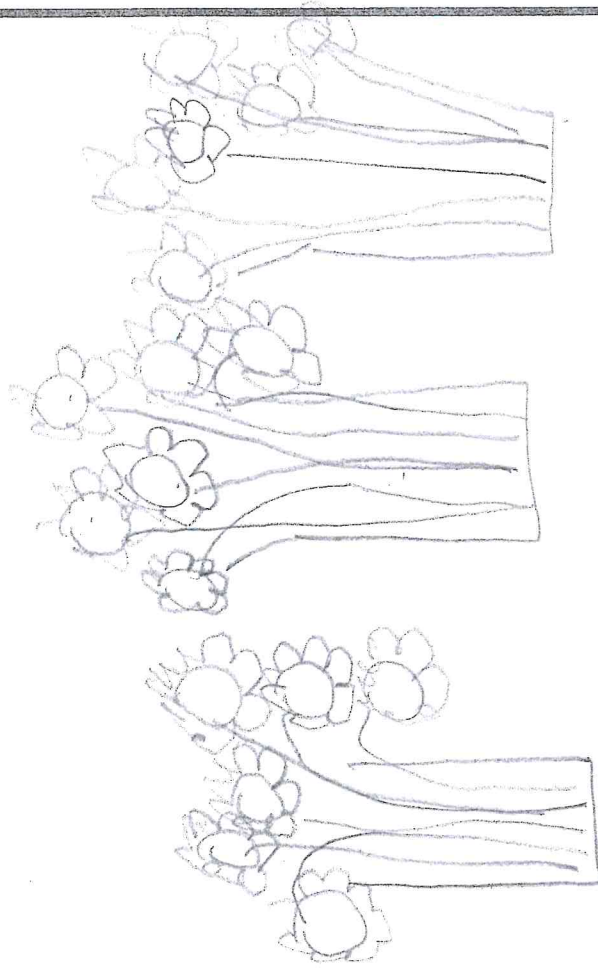


$$6 + 6 + 6 = 18$$

Il lui va offrir 18 fleurs.

Julie

Mathurin prépare la fête des mères et ramasse des fleurs.
Il a 3 réalisés 3 bouquets de 6 fleurs.
Combien de fleurs va-t-il offrir au total à sa maman ?



$$6 + 6 + 6 = 18$$

Il lui va offrir 18 fleurs.